

# مقایسه ریاضی سه سال اخیر

$$35^2 \times 469y^3 =$$

$$17^3 \div 17x^2$$

$$15 \sqrt{402}$$

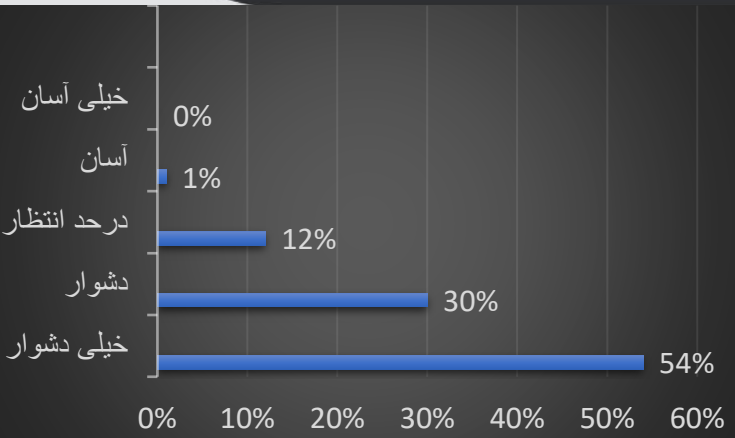
$$x^2 + y^3 =$$

$$472 \div 2^3 + y$$

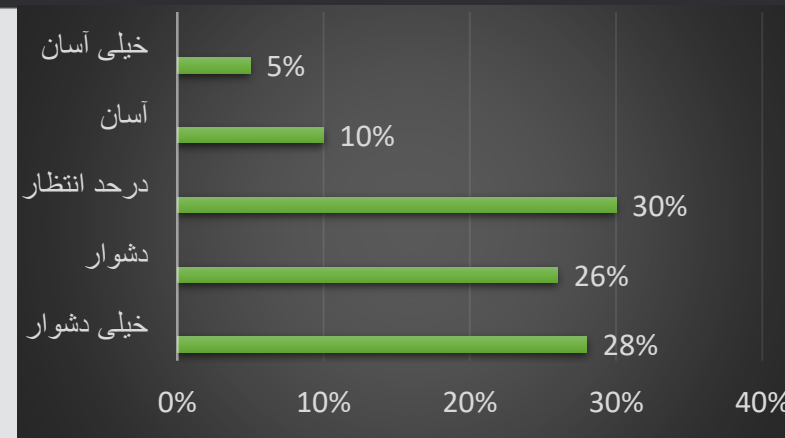
$$I \heartsuit x^2 + 7.12$$



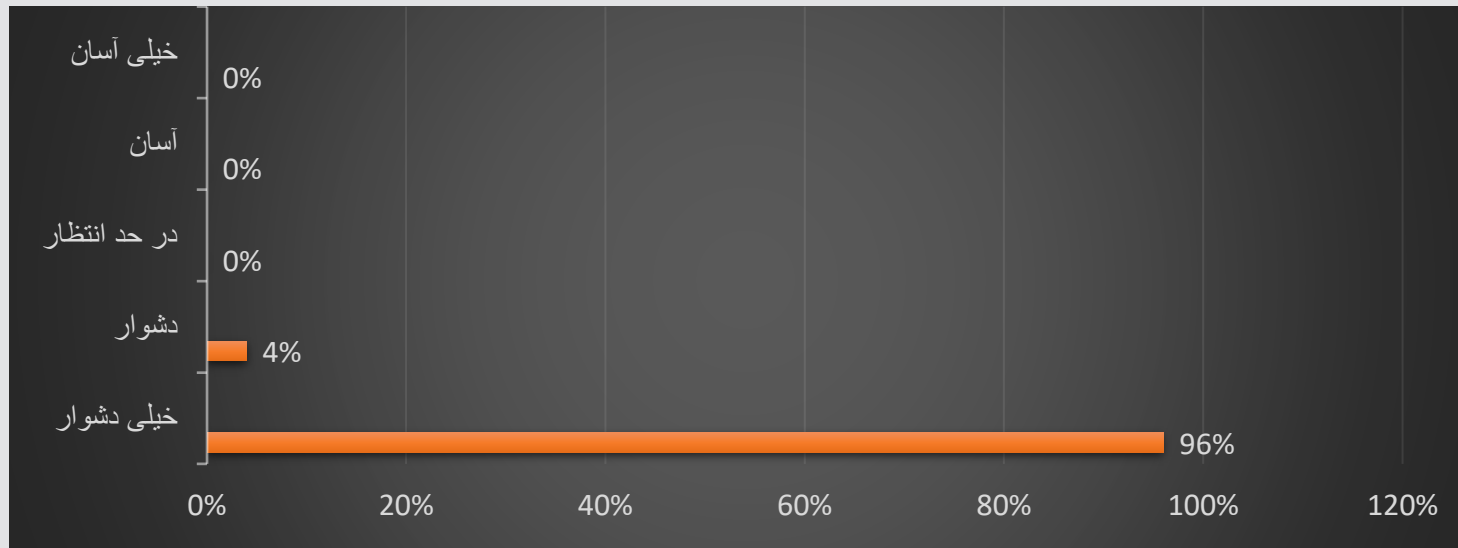
## از دیدگاه داوطلبان:



کنکور سراسری 99:



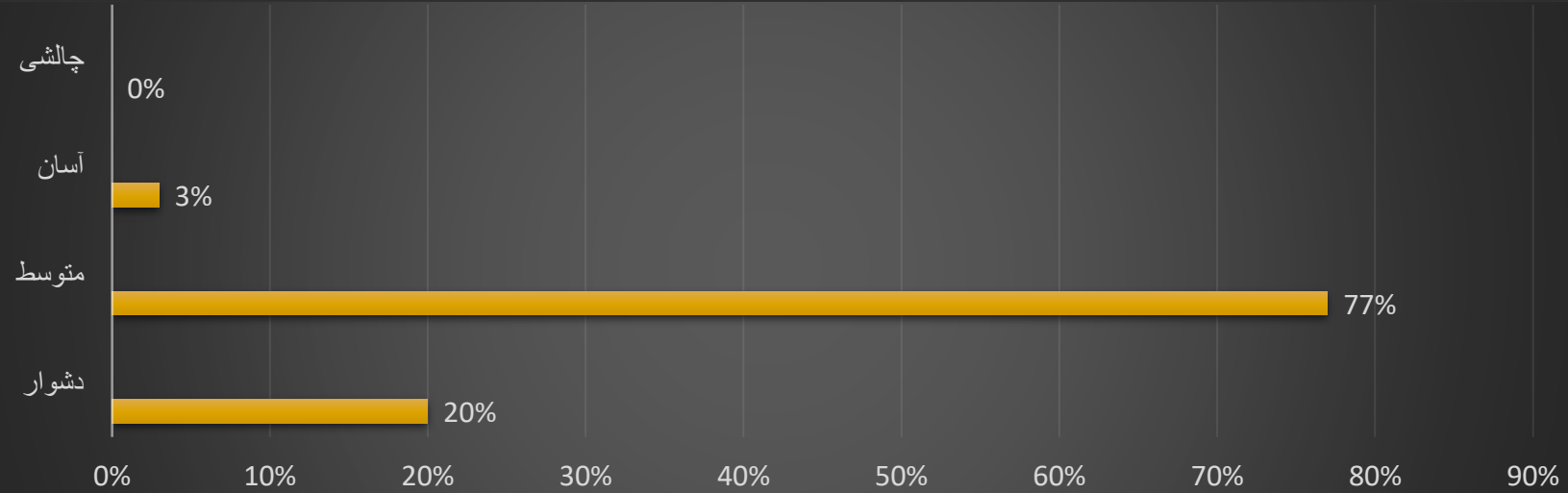
کنکور سراسری 98:



کنکور سراسری 1400:

کنکور	مثلثات	معادله و نامعادله	احتمال و شمارش	الگو و دنباله	حد و پیوستگی	مشتق	کاربرد مشتق	هندسه تحلیلی	تابع	آمار	هندسه	عبارت جبری	لگاریتم
<b>98</b>	2نسبت مثلثاتی 1نمودار مثلثاتی 1معادله مثلثاتی	1معادله رادیکالی 1نامعادله	1شمارش دهم 1احتمال یازدهم 1احتمال دوازدهم	1الگو	1پیوستگی حد در بینهایت 1حد بینهایت	3مشتق پذیر آهنگ تغییرات 1ماکزیم و مینمم نسبی	1اکیداً نزولی	1فاصله نقطه از خط 1بیضی	4نمودار تابع نمایی 2ترکیب تابع 1معکوس تابع	1میانگین و واریانس	3طول قطر 1مساحت 1وزنقه 1طول خط	1عبارت جبری	1لگاریتم
<b>99</b>	1نسبت مثلثاتی 2نمودار مثلثاتی 1معادله مثلثاتی	1معادله درجه 2 1نامعادله	1شمارش دهم 1احتمال دهم	1دنباله حسابی	2تست حد در بینهایت 1تست حد بینهایت	3مشتق پذیر 1ماکسیمم نسبی	0تست	1فاصله دو خط از یکدیگر	9نمودار تابع 1انتقال نمودار 2تابع چندجمله ای 3معکوس تابع (یکی نمایی و دوتا تابع)	1ضریب تغییرات	3محیط مثلث 1مساحت 1ت مثلث 1ارتفاع	2عبارت گویا 1عبارت جبری	1لگاریتم
<b>1400</b>	2نسبت مثلثاتی 1معادله مثلثاتی	3معادله درجه 2 ریشه معادله درجه 3	3جایگشت 1احتمال شرطی	0تست	3حد در بی نهایت 1حد بی نهایت بر اکتی 1پیوستگی	3اکستریم نسبی مشتق ترکیب تابع پیوستگی	0تست	2فاصله نقطه از خط دایره	8تست تابع نمایی و لگاریتمی معکوس تابع انتقال نمودار مثلثاتی ترکیب معکوس تابع با فاصله نقطه از خط نمودار پراکت	0تست	3مساحت استوانه محیط تشابه	2عبارت جبری و توان	ترکیب با تابع

# دیدگاه مشاور و مدرس:



مشترک	سال دوازدهم	سال یازدهم	سال دهم	کنکور
4 تست	14 تست	18 تست	14 تست	<b>98</b>
9 تست	15 تست	14 تست	12 تست	<b>99</b>

1) تغییر چینش سوالات نسبت به کنکور سال گذشته

2) محاسبات پیچیده و وقت گیر

3) سوالات گاهاً خارج از مبحث